

Učenci in učenke!



Približuje se ocenjevanje vašega poznavanja Južne, Zahodne in Severne Evrope. Da preveriš svoje znanje reši Preverjanje znanja. Da bo reševanje nalog lažje vam podam nekaj navodil in nasvetov:

- Pazljivo preberite vprašanja, oglejte si slike in natančno preberite besedilo.
- V zvezek zapišeš naslov: PREVERJANJE ZNANJA – 7. RAZRED – GEO; zapišeš tudi današnji datum reševanja.
- Odgovore boste zapisovali v vaše zvezke za GEO. Naloge boste označili kot v navedenem primeru:
 1. a : *Južna Evropa leži ob Sredozemskem morju.*
- V primeru naloge, ko je potrebno odgovor označiti za pravilnega/nepravilnega in nato popravljenega, zapišete:
 6. a) *N* *pravilno: Severna Evropa je redko poseljena.*
 - b) *P*
 - c) *P*
 - itd.*
- Pišite čitljivo, kar je še posebej pomembno, saj brati iz fotografij je še težje kot, če bi mi oddali test.
- Ne pišite s svinčnikom, ampak uporabite nalivno pero ali kemično pisalo (»kuli«).
- Odgovore boste poslikali in mi fotografije poslali na moj e-naslov in sicer do četrтка, 14.5.2020.
- Najprej poskušaj odgovarjati na vprašanja brez pripomočkov, saj boš s tem preveril svoje znanje in dobil povratno informacijo, katero snov že znaš dobro in katero še moraš bolj natančno pogledati.



GEOGRAFIJA 7 - PREVERJANJE ZNANJA

Ime in priimek:

datum:

Natančno preberi navodila. Uspešno REŠEVANJE.

	2
--	---

1. Med naštetimi državami izpiši tiste, ki so celinske države.

SLOVENIJA

MADŽARSKA

NORVEŠKA

ALBANIJA

SRBIJA

ANDORA

BELGIJA

SLOVAŠKA

2. Poleg Severne Amerike ima Evropa največje prihodke od turizma.

a) Med naštetimi pokrajinami zapiši dve pokrajini, ki sta v Evropi najpomembnejši turistični območji.

	3
--	---

PANONSKA NIŽINA

ALPE

NEMŠKO-POLJSKO
NIŽAVJE

VZHODNO EVROPSKO
NIŽAVJE

SREDOZEMLJE

KARPATI

DINARSKO GORSTVO

PADSKA NIŽINA

b) Za vsako pokrajino napiši naravni dejavnik, zaradi katerega je pokrajini cilj številnih turistov.

1. pokrajina: _____

2. pokrajina: _____

3. Evropo delimo na 6 geografskih enot.

K vsaki trditvi napiši del Evrope, ki ga opisuje trditev.

	5
--	---

A Podnebje je precej hladnejše kot v preostali Evropi.

B Leži ob Sredozemskem morju.

C Države povezuje zgodnja industrializacija in kolonialna preteklost.

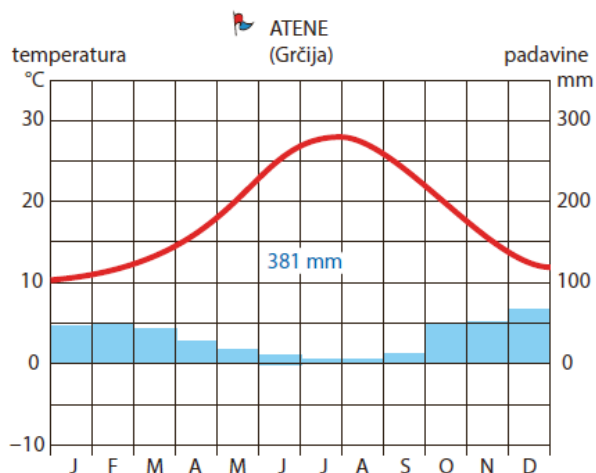
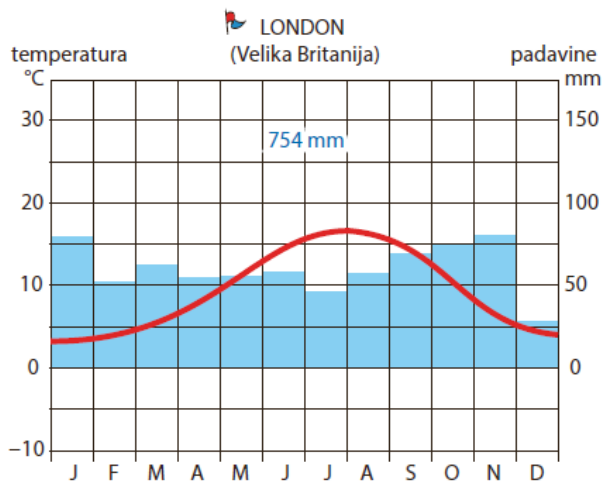
D Je najbolj razčlenjen del Evrope, sestavljajo jo številni otoki in polotoki.

Zahodni del geografske enote je gospodarsko bolj razvit kot vzhodni del.

	5
--	---

4. Oglej si klimograma Dublina in Aten. Obe mesti stojita ob morju.

a) Napiši tip podnebja, ki ga prikazuje klimogram.



a) _____

a) _____

b) Napiši dve razliki med podnebji obeh mest.

1. razlika: _____

2. razlika _____

c) Pojasni, posledica česa sta zgoraj napisani razliki.

5. Ob izlivu reke Ren stoji največje pristanišče v Evropi.

	5
--	---

a) Napiši ime pristanišča: _____

b) Napiši dva dejavnika, ki sta in še vplivata na razvoj pristanišča. Pojasni njun pomen.

Dejavnik 1:

Dejavnik 2:

6. Posamezne geografske enote povezujejo naravne in družbene značilnosti.

	4
--	---



a) Poimenuj geografsko enoto Evrope na zemljevidu.

b) Napiši državo, ki na zemljevidu manjka.

c) Geografsko enoto na zemljevidu razdelimo na dva dela. Vpiši imena na zemljevid.

7. Oglej si fotografiji in reši nalogi.

	4
--	---

a) Poimenuj naravna pojava na fotografiji.

b) Opiši, kako sta pojava nastala.

1. POJAV



www.shutterstock.com · 238235545

a) _____

2. POJAV



a) _____

Nastanek 1. pojava:

Nastanek 2. pojava:

8. Preberi besedilo in reši nalogi.

	3
--	---

Leta 2015 je Evropo zajel begunski val. Velik del begunskega vala se je v drugi polovici oktobra preusmeril čez Slovenijo. V samo 10 dneh (od 20. 10 do 31. 10.) je slovensko mejo po podatkih policije prečkalo več kot 100 000 ljudi. Večina jih je bila iz Sirije, kjer že nekaj let poteka

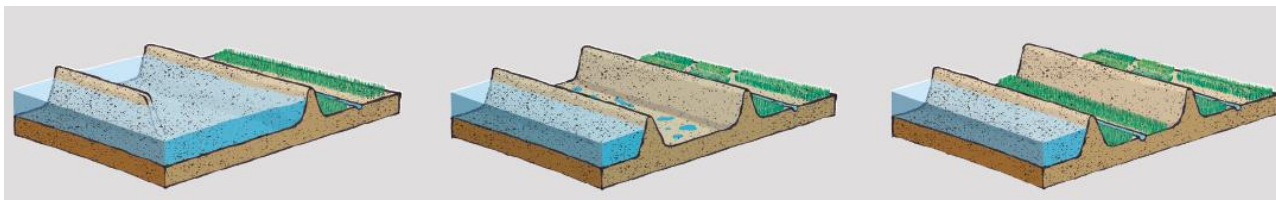
državljska vojna, med njimi pa so bili tudi prebivalci drugih držav Jugozahodne Azije, ki v Evropi iščejo zaposlitev. Cilj vseh je bila predvsem Nemčija in države Zahodne Evrope.

a) S pomočjo besedila napiši dva vzroka za selitve leta 2015.

b) Pojasni, zakaj so cilj priseljencev predvsem Nemčija in države Zahodne Evrope.

9. Oglej si ilustracijo in odgovori na vprašanja.

	2
--	---



a) Na ilustraciji je prikazano pridobivanje zemljišč iz morja. Kako imenujemo tako pridobljena zemljišča?

b) V kateri evropski državi je tako pridobljena četrtnina današnjega ozemlja države?

10. Gospodarstvo Evrope

	3
--	---

Obkroži črke pred pravilnimi trditvami.

- A Največja industrijska središča evropskega sredogorja so Karpati, Šlezija in Porurje.
- B V primerjavi z ostalimi deli Evrope je v Jugovzhodni Evropi velik del prebivalstva zaposlen v kmetijstvu.
- C V Zahodni Evropi prevladuje intenzivno kmetijstvo, za katerega so značilni veliki hektarski donosi.
- Č Obsežni gozdovi na Islandiji in Finskem so omogočili razvoj lesne in papirne industrije.
- D Na Uralu so bogata nahajališča rud.
- E Najboljši pogoji za kmetijstvo v Vzhodni Evropi so na severu Rusije.